



Escola Básica de Santa Marinha

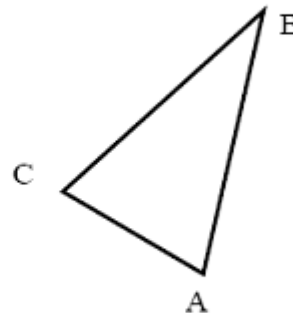
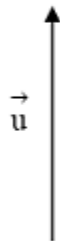
Conteúdo: Geometria

Unidade: Circunferência e polígonos


Actividade 7 de TPC: Isometrias

Envia para: mariarodriguescarvalho4@gmail.com

1. No C.a.R. desenha o transformado do triângulo [ABC] isósceles:
 - a) Pela simetria segundo a recta r
 - b) Pela translação segundo o vector \vec{u} de comprimento 3 cm, de direcção e sentido indicado na figura.
 - c) Pela rotação de centro A e amplitude 60°



r



2. Desenha os eixos de simetria da figura seguinte, depois de a reproduzires no C.a.R.



Abril, 2009
Maria José Carvalho